

达标测试卷

题号	一	二	三	四	五	六	七	八	九	十	总分
得分											

一、想一想,填一填。(24分)

1. 我会用不同的方法计算。

$$16-9=(7)$$

想加算减法:想9加(7)等于16,16减9等于(7)。

破十法:先算 $10-9=(1)$,再算 $(6)+(1)=(7)$ 。

2. 我来口算。

$$\begin{cases} 8+5=13 \\ 13-8=5 \\ 13-5=8 \end{cases}$$

$$\begin{cases} 6+9=15 \\ 15-6=9 \\ 15-9=6 \end{cases}$$

$$\begin{cases} 7+4=11 \\ 11-7=4 \\ 11-4=7 \end{cases}$$

3. $\square\square\square\square\square\square\square\square\square\square\square\square\square$
 $\star\star\star\star\star\star\star$

\square 比 \star 多(6)个, \star 比 \square 少(6)个。











4. 15比8多(7),5比12少(7)。

5. 比17少9的数是(8),比7多8的数是(15)。

6. 小兰要做15道口算题,已经做了9道,错了1道,她还剩(6)道没做。




7. 河里有12只鸭子、13只鹅,若把8只鸭子赶到岸上,则河里还有(4)只鸭子。

二、丑小鸭变成了哪只白天鹅？连一连。(5分)

 12-8	 11-6	 17-8	 13-5	 14-7
 5	 9	 7	 4	 8

Connections: 12-8 to 5, 11-6 to 9, 17-8 to 7, 13-5 to 4, 14-7 to 8.

三、送小动物过河。(6分)

	14-6=8	12-4=8	13-4=9	18-9=9
	15-7=8	18-8=10	12-7=5	15-8=7
	16-4=12	14-8=6	12-6=6	13-6=7

四、比较乐园里显身手。(共8分)

1. 请把小鸟身上的符号填在相应的○里。(3分)



8 $\boxed{=}$ 14-6	12-6 $\boxed{<}$ 12-5	15-6 $\boxed{>}$ 13-6
7 $\boxed{>}$ 12-8	14-9 $\boxed{<}$ 18-9	11-7 $\boxed{<}$ 13-8

2. 按得数的大小给下列算式排排队。(5分)

 14-5	 13-7	 18-7	 16-6	 16-8
---	---	---	--	---

13-7 < 16-8 < 14-5 < 16-6 < 18-7

五、智力大比拼。(共11分)

1. 在括号里填上合适的数。(3分)

13-(8)=5

16-(9)=7

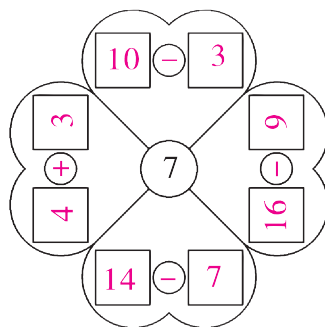
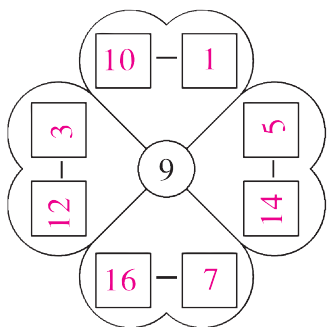
$$(11) - 3 = 8$$

$$5 + (9) = 14$$

$$9 + 7 = (8) + 8$$

$$14 - 5 = (15) - 6$$

2. 看得数, 写算式。(8 分)



(答案不唯一)

六、按要求在横线上画图。(6 分)


1. $\square\square\square\square\square\square\square\square\square\square\square\square$

画○, 比□多5个。 $\bigcirc\bigcirc\bigcirc\bigcirc\bigcirc\bigcirc\bigcirc\bigcirc\bigcirc\bigcirc\bigcirc\bigcirc\bigcirc\bigcirc\bigcirc\bigcirc$


2. $\triangle\triangle\triangle\triangle\triangle\triangle\triangle\triangle\triangle\triangle\triangle\triangle\triangle\triangle\triangle\triangle$

画☆, 比△少7个。 $\star\star\star\star\star\star\star\star\star\star$

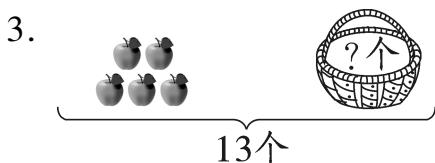
七、看图列减法算式并计算。(8 分)



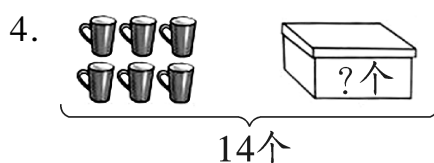
$$12 - 4 = 8 \text{ (只)} \quad 12 - 8 = 4 \text{ (只)}$$



$$12 - 5 = 7 \text{ (只)} \quad 12 - 7 = 5 \text{ (只)}$$



$$13 - 5 = 8 \text{ (个)}$$



$$14 - 6 = 8 \text{ (个)}$$

八、将“+”或“-”填入○内。(4分)

$12 \bigcirc 5 = 7$

$7 \bigcirc 8 = 15$

$16 \bigcirc 10 = 14 \bigcirc 8$



$18 \bigcirc 8 = 10$

$19 \bigcirc 19 = 0$

$19 \bigcirc 5 = 6 \bigcirc 8$

九、按要求完成下列各题。(16分)

10-1	10-2	10-3	10-4	10-5	10-6	10-7	10-8	10-9
11-2	11-3	11-4	11-5	11-6	11-7	11-8	11-9	
12-3	12-4	12-5	12-6	12-7	12-8	12-9		
13-4	13-5	13-6	13-7	13-8	13-9			
14-5	14-6	14-7	14-8	14-9				

1. 把上面的减法表填完整。(13分)

2. 说一说,你发现了什么规律?(3分)

【答案】竖着看:每一列的得数相同,被减数依次增加1,减数依次增加1。(答案不唯一)

十、解决问题。(12分)

1. 我做了18朵花。 我比你少做9朵。



小刚

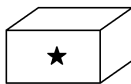


小红

小红做了几朵花?

$18 \bigcirc 9 = 9 \text{ (朵)}$

2.



树上和盒子里一共有13颗★,盒子里有几颗★?

$13 \bigcirc 6 = 7 \text{ (颗)}$

3. (创新题)小兰给小明(4)本书,两个人的书的本数就同样多。

我有14本书。



小兰

我有6本。



小明